



WANDELZOEKTOCHT ZOMER 2022

We hebben ook deze zomer weer een wandelzoektocht voor jullie uitgestippeld. De aanpak is wat anders, we geven jullie dit jaar de route niet. Aan de hand van raadsels/aanwijzingen moet je telkens zelf de volgende locatie vinden.

Jullie moeten dit jaar ook niet op zoek naar foto's. Onderweg krijg je vragen die je probeert te beantwoorden. Wanneer je op het einde van de zoektocht alle antwoorden gevonden hebt, kom je tot een code.

Deze code breng je **vóór 1 september 2022** binnen op volgend adres: Sander De Vosstraat 86A of per mail natalie_hens@hotmail.com.

Wat we wel behouden hebben, is dat je kans maakt op een mooie prijs na het binnenbrengen van de correcte code.

Vooraf willen we nog enkele TIPS geven:

- Alle vragen kan je beantwoorden door op de weg te blijven. Je moet dus nooit privéterrein betreden.
- Sommige raadsels kan je ook vooraf thuis al ontcijferen.
- Wanneer je niet van Koningshooikt bent, is een kaart handig (bvb. op je GSM) om de volgende straten te kunnen vinden.
- Voor sommige vragen zal je ook iets moeten opzoeken.

Veel wandel- en zoekplezier!

START:

De Laag

Route:

Hepet eepeerstepe deepeel vapan oponzepe roupoutepe gaapaat doopoor eepeen vapan depe lapangstepe strapatepen vapan opons doporp. Depezepe straapaat ipis gepenoepoemd naapaar depe vroepoegeperepe schipildeper, koposteper epen oporgapanipist vapan hepet doporp.

Vraag 1:

Wat is de kleur die je terugvindt in de naam van het project dat in het begin van deze straat gebouwd wordt waardoor hier weldra 26 sociale woningen en een gemeenschapsruimte in gebruik genomen worden?

Route:

Om te weten waar je nu heen moet, gebruiken we de smileyroute. De lus geeft het beginpunt aan en dat is de plek waarover de eerste vraag ging. De smileys geven de route aan. Bij elk kruispunt dat je tegenkomt kijk je naar het volgende aantal smileys.

1 smiley = rechtdoor

2 smileys = rechtsaf

3 smileys = linksaf



Vraag 2:

Wat is het huisnummer van het huis met een schotelantenne?

Route:

Wanneer je de vorige vraag goed beantwoord hebt, ga je verder op deze straat tot aan de
1ste Plezier. Neem de ingang tegenover huisnummer 25. Voor het beantwoorden van
vraag 2 wandel je het gebied in wijerzinnig rond en neem de hoofdingang met parking als
startpunt. De cirkel is dat het huisnummer.

Vraag 3:

Hoeveel banken staan er rond het domein?

Route:


Voor het vervolg van je route, volg je onderstaande foto's.



Vraag 4:

Op het gebouw waarvan je een deel op de laatste foto ziet, staat een wit bord met rode letters. Hoeveel letters telt het woord dat op dit bord staat geschreven?

Route:




Vraag 5:

Wanneer je het volgende deel van de route volgt volgens de visgraat, kom je onderweg een broodautomaat tegen. Hoeveel lades brood telt deze?

Route:

Bij de visgraat moet je van onder naar boven lezen. De lange rechte lijn is de weg die je moet lopen. De korte streepjes zijn de wegen die je **niet** moet inslaan. Het bolletje is het kruispunt waar de morsecode gestopt is. Vertrek in de richting van de verkeerslichten.



Vraag 6:


Het huis met nr. 2 heeft luiken aan de ramen. Hoeveel luiken kan je tellen vanop straat?

Route:

Voor het vervolg van de route kijk je naar onderstaande oogjes bij elk kruispunt. Zij geven de richting aan die je uit moet.

Vraag 7:

Welk dier zie je op de garagepoort van huis nr. 52?



Route:

Knngshkt knt hl wt trg wgn d j zkr ns mt bwndln. D vlgnd wg n ds k d vlgnd vrg vn dz tcht s d trg wg wrnr j kn gn vnt dz strt. G dz wg n.

TIP



= ppl

Vraag 8 :

Naar welk dier is deze weg genoemd?

Route:

Neem meteen het volgende wandelpad en kom uit in de straat die volgens Van Dale verwijst naar een smal stromend water, dat nog overal doorwaadbaar is of naar een stroom van vocht.

Vraag 9:

Ga deze straat in tot je een sportvereniging tegenkomt waarvan blauw en wit de clubkleuren zijn. Wat is het stamnummer van deze sportvereniging?

Route:

Lbo kf ppl wpmhfoef dpef lsblfo? Hb ebo obbs ef Epsqttusbbs.



TIP:  = bqqfm

Vraag 10:

Wat is het huisnummer van de school die je in deze straat passeert?

Route:

Om te weten te komen waar onze tocht verder heen gaat, moet je onderstaande woordzoeker oplossen. Wanneer je alle woorden uit de lijst doorgestreept hebt, blijft de straatnaam over van de straat waar je heen moet voor de volgende vraag.

L	N	K	V	L	I	E	G	E	R	S	S	L
N	O	E	S	T	R	A	N	D	R	L	A	E
I	Z	O	B	S	P	R	O	E	I	E	R	I
U	K	R	T	L	A	B	P	R	B	I	G	T
T	A	B	R	S	O	P	B	A	A	N	V	N
N	M	M	IJ	A	I	E	D	Z	D	I	L	A
E	P	E	E	L	N	P	M	E	M	K	I	K
R	V	W	S	N	A	J	R	E	I	I	N	A
E	U	Z	O	K	I	K	A	E	N	B	D	V
P	U	Z	A	N	D	K	A	S	T	E	E	L
M	R	Z	W	E	M	M	E	N	O	A	R	S
A	L	I	A	T	K	C	O	C	N	E	W	O
K	W	A	R	M	E	U	C	E	B	R	A	B

BADMINTON	KAMPEREN	WARM
BADPAK	KAMPVUUR	WATERPISTOOL
BAL	RANJA	ZANDKASTEEL
BARBECUE	SLIPPERS	ZEE
BIKINI	SPROEIER	ZON
BLOEMEN	STRAND	ZONNEBRIL
BOS	TUIN	ZWEMBROEK
COCKTAIL	VAKANTIE	ZWEMMEN
GRAS	VLIEGER	IJS
	VLINDER	

Vraag 11:

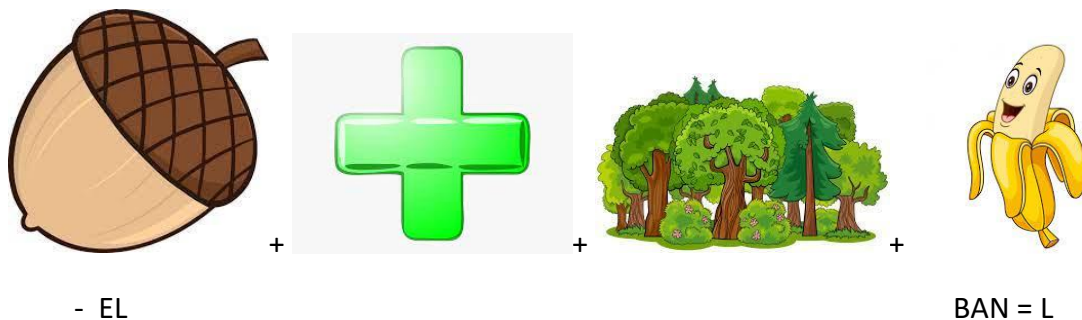
In deze straat zie je 3 garagepoorten vlak naast elkaar. Wat is hun kleur?

Route:

Ga voor de laatste vraag naar de straat die verstopt zit in onderstaande rebus.

Vraag 12:

Wanneer je de straat uit vraag 11 uitwandelt, hoeveel huizen kom je aan je linkse kant tegen voor je aan de straat uit deze rebus komt?



Als alles meezit, heb je nu 12 antwoorden verzameld op je antwoordformulier en ben je vlakbij je startpunt. Met je 12 antwoorden kan je vervolgens de code vormen.

ANTWOORDFORMULIER WANDELZOEKTOCHT

1

2

3

4

5

6

7

8

9

10

11

12

ANTWOORDFORMULIER CODE

De code:

- Neem de 5^e letter van het antwoord op vraag 8. De hoeveelste letter uit het alfabet is dit? Tel hierbij het aantal letters op van de kleur uit vraag 1. Tel ten slotte het antwoord op vraag 12 hierbij op.
Het eerste cijfer =
- Tel de getallen van antwoord 9 op. Tel daarbij het antwoord van vraag 10 op. Deel vervolgens het geheel door het aantal letters van de kleur uit vraag 11. Deze uitkomst bestaat uit 2 cijfers die je dan nog eens moet optellen.
Het tweede getal =
- Het antwoord op vraag 6 – het antwoord op vraag 5 - het antwoord op vraag 3 – het antwoord op vraag 2.
Het derde getal =
- Neem de 4^e letter uit het antwoord op vraag 7. De hoeveelste letter uit het alfabet is dit? Deel dit getal door het antwoord op vraag 4.
Het vierde getal =

Naam:

Adres: (slechts 1 formulier per adres)

.....
.....

Lidnummer:

Wie geen lid is van de gezinsbond, betaalt 5 euro voor deelname aan de zoektocht.

Breng dit document vóór 1 september binnen op volgend adres: Sander De Vosstraat 86A, 2500 Koningshooikt Of per mail natalie_hens@hotmail.com
